



enC@jeja²⁰¹⁷

Exame Nacional para Certificação de
Competências de Jovens e Adultos

Ensino Médio

Prova 2 - Manhã

2ª Aplicação

Ciências Humanas e suas Tecnologias

Leia com atenção as instruções abaixo:

1. Ao receber este Caderno de Prova, confira se contém trinta questões, corretamente ordenadas de 31 a 60. Caso o caderno esteja incompleto ou tenha qualquer defeito, solicite imediatamente ao Aplicador que tome as providências cabíveis.
2. Leia atentamente cada questão antes de decidir qual opção assinalar. Lembre-se: cada questão tem uma única opção correta.
3. Inicialmente, marque as suas respostas neste Caderno de Prova. Em seguida, transcreva-as para o Cartão-Resposta preenchendo completamente os círculos correspondentes. Utilize caneta esferográfica de tinta preta fabricada com material transparente. Lembre-se: o Cartão-Resposta é o único documento válido para a correção da sua prova objetiva.
4. Ao terminar a prova, chame o Aplicador e devolva-lhe este Caderno de Prova e o seu Cartão-Resposta.
5. A duração das provas, deste turno, é de quatro horas, já incluído o tempo destinado ao preenchimento do Cartão-Resposta.





QUESTÃO 31

Nós temos que mudar. Um novo governador com os mesmos brasileiros não poderá fazer nada. Sim, creio que isso encaixa muito bem em tudo o que anda nos acontecendo: desculpamos a mediocridade mediante programas de televisão francamente tolerantes com o fracasso. É a indústria da desculpa e da estupidez. Decidi procurar o responsável, não para castigá-lo, senão para exigir-lhe que melhore seu comportamento e que não se faça de surdo, de desentendido. Sim, decidi procurar o responsável e estou seguro de que o encontrarei quando me olhar no espelho.

RIBEIRO, J. U. Precisa-se de matéria-prima para construir um país. **Jornal do Meio Ambiente**, 14 nov. 2005 (adaptado).

A reflexão do autor destaca que a modificação dos panoramas social e político brasileiro depende basicamente da

- A** atuação da liderança nacional.
- B** pressão das entidades sindicais.
- C** organização de partidos políticos.
- D** ampliação da participação cidadã.

QUESTÃO 32

A Lei n. 11.340/2006 (Lei Maria da Penha) transforma o ordenamento jurídico brasileiro, expressa o necessário respeito aos direitos humanos das mulheres e tipifica as condutas criminosas. Além disso, essa lei modifica, significativamente, a conduta civil e penal em termos de investigação, procedimentos, apuração e solução para os casos de violência doméstica contra a mulher.

Disponível em: www.observe.ufba.br. Acesso em: 21 ago. 2013 (adaptado).

A referida lei constitui um instrumento para

- A** estabilizar as estatísticas de conflito familiar.
- B** implantar os núcleos de apoio psicossocial.
- C** reduzir os índices de agressão doméstica.
- D** ampliar as técnicas de investigação criminal.



QUESTÃO 33

Nos principais centros urbanos do Brasil, os movimentos populares passaram a desenvolver ações contestatórias a partir da metade dos anos 1970, tendo por eixo a posse da terra e o acesso aos serviços urbanos.

BAIERLE, S. A explosão da experiência de um novo princípio ético-político nos movimentos populares urbanos em Porto Alegre. In: ALVAREZ, S.; DAGNINO, E.; ESCOBAR, A. (Org.). **Cultura e política nos movimentos sociais latino-americanos**. Belo Horizonte: UFMG, 2000 (adaptado).

Os objetivos da mobilização dos grupos citados estão associados à busca de

- A** auxílio de obras de caridade.
- B** obtenção de favores do Estado.
- C** garantia de exercício da cidadania.
- D** reconhecimento de privilégio de classe.

QUESTÃO 34

A festa é dos negros

Atualmente, muitas festas negras ganharam especial valorização, para além dos próprios grupos ou do interesse pontual de alguns folcloristas. Dentre elas, jongos, sambas de roda, tambores de crioula e festas do boi receberam o reconhecimento oficial do Instituto do Patrimônio Histórico e Artístico Nacional.

ABREU, M. **Revista de História da Biblioteca Nacional**, n. 100, jan. 2014.

Essas manifestações foram reconhecidas oficialmente como parte do patrimônio histórico e artístico brasileiro porque

- A** integram a cultura imaterial.
- B** reforçam a tradição clássica.
- C** destacam a estética regional.
- D** preservam a herança europeia.



QUESTÃO 35

A Zona Franca de Manaus foi inicialmente idealizada como Porto Livre, em 1957. Dez anos mais tarde, em 1967, o modelo foi reformulado e foram instituídos incentivos fiscais para implantação de um polo industrial, comercial e agropecuário. Há incentivos tributários, com redução ou isenção de tributos federais, estaduais e municipais, além da venda de terrenos a preços simbólicos no parque industrial de Manaus, com completa infraestrutura de serviços sanitários, energia e comunicações.

MIRANDA, R. N. **Zona Franca de Manaus**: desafios e vulnerabilidades. Disponível em: www12.senado.gov.br. Acesso em: 3 ago. 2014 (adaptado).

A ação estatal mencionada teve como objetivo o(a)

- A** valorização da matéria-prima amazônica.
- B** estímulo do desenvolvimento regional.
- C** assimilação das populações indígenas.
- D** aproveitamento do conhecimento tradicional.

QUESTÃO 36

A Organização da ONU para a Agricultura e a Alimentação (FAO) divulgou em 2013 um estudo no qual defende a importância dos insetos como fonte de proteínas para alimentação humana. Segundo a agência, existe um potencial inexplorado na criação de insetos, que é de baixo custo e ecológica. São necessários 2 quilos de ração para produzir 1 quilo de insetos, enquanto o gado requer 8 quilos de alimento para produzir 1 quilo de carne.

Disponível em: www1.folha.uol.com.br. Acesso em: 2 ago. 2014 (adaptado).

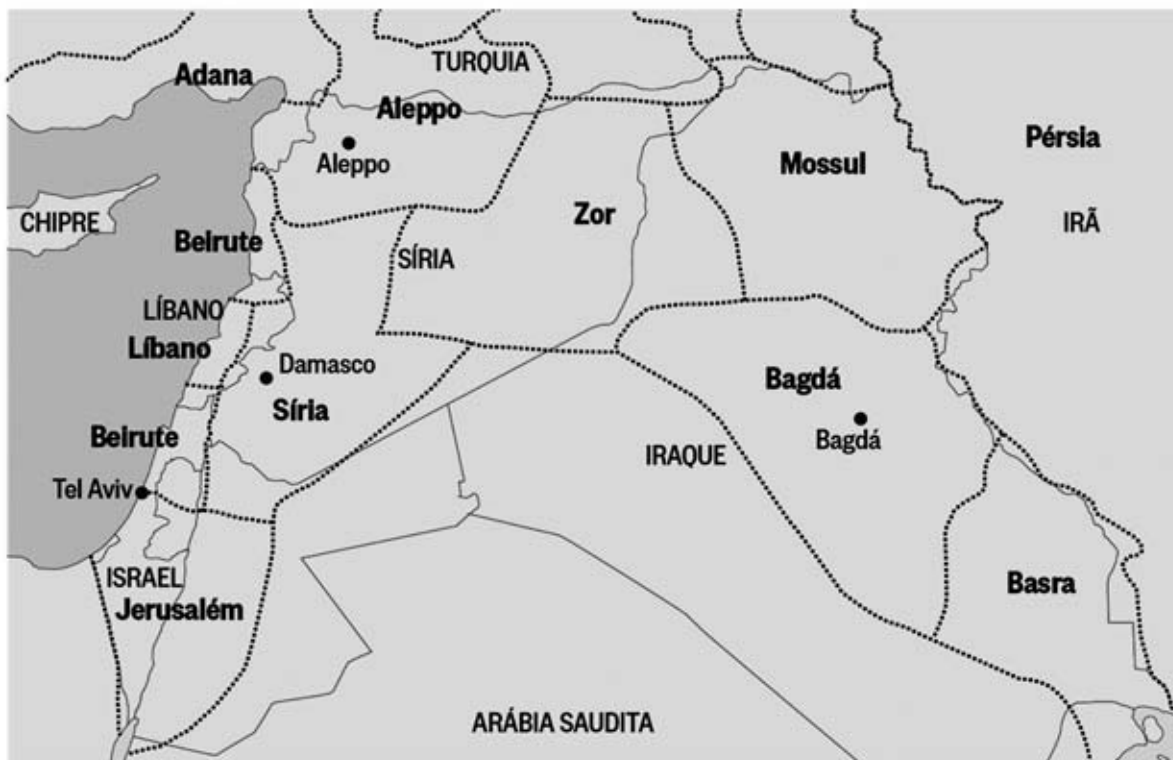
No Brasil, a proposta apresentada no texto tem como obstáculo a

- A** limitada disponibilidade de tecnologias.
- B** expressiva atuação dos ambientalistas.
- C** difícil modificação dos hábitos.
- D** forte oposição de religiosos.

QUESTÃO 37

MAPA REDESENHADO

☐ Fronteiras do Império Otomano ☐ Fronteiras atuais



FONTE: The New York Times

Nenhuma região no mundo, hoje, encarna melhor do que o Oriente Médio o trabalho mal-acabado realizado ao final da Primeira Guerra Mundial. Depois da queda do Império Otomano, fronteiras arbitrárias foram traçadas por potências imperialistas, como Reino Unido e França, com base unicamente nos seus interesses.

Disponível em: <http://oglobo.globo.com>. Acesso em: 8 ago. 2014.

Dadas as informações, uma consequência da reconfiguração socioespacial dessa região é a

- A** instabilidade política.
- B** desigualdade social.
- C** semelhança cultural.
- D** dependência energética.



QUESTÃO 38

A imagem do rapaz de blusão de couro, topete e *jeans*, em motos ou lambretas, na década de 1960, mostrava uma rebeldia ingênua sintonizada com ídolos do cinema como James Dean e Marlon Brando. As moças bem comportadas já começavam a abandonar as saias rodadas e atacavam de calças *cigarette*, num prenúncio de liberdade.

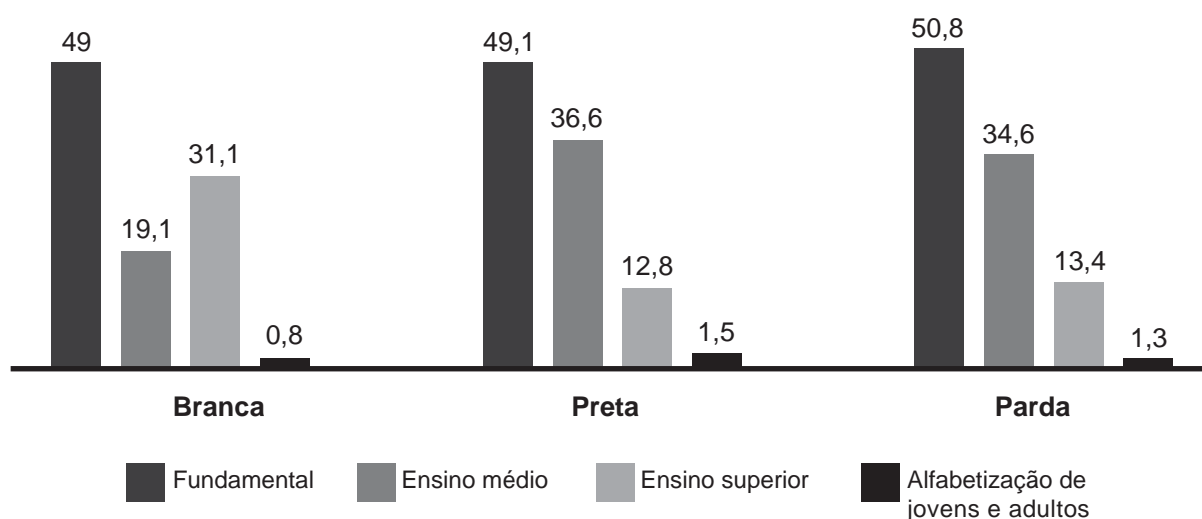
Disponível em: <http://almanaque.folha.uol.com.br>. Acesso em: 21 ago. 2014 (adaptado).

A comercialização dos produtos descritos no texto favoreceu a

- A difusão da cultura norte-americana.
- B oposição ao modelo consumista.
- C adesão ao movimento feminista.
- D contestação da ordem política.

QUESTÃO 39

Distribuição dos brasileiros de 15 a 24 anos de idade que frequentavam escola, por cor ou raça, segundo o nível de ensino (em %)



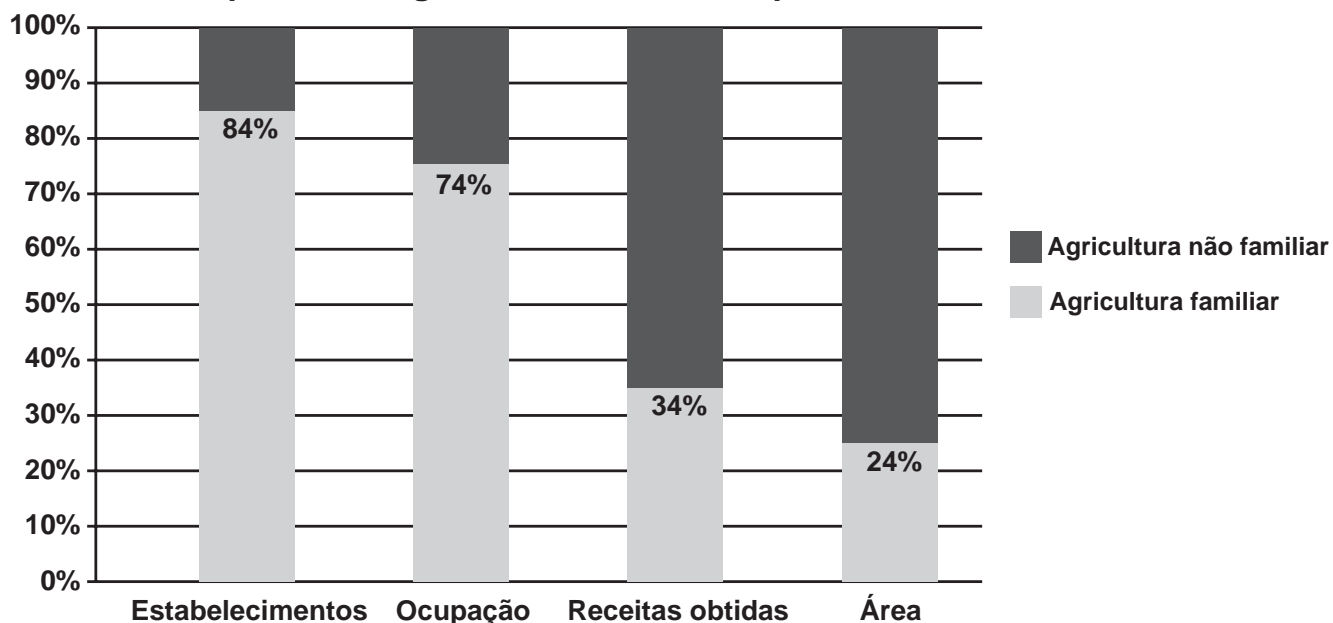
IBGE. Disponível em: <http://noticias.uol.com.br>. Acesso em: 22 set. 2013 (adaptado).

As diferenças quanto ao acesso ao ensino superior, para essa faixa da população brasileira, são resultados da

- A ausência de crédito para financiamento estudantil.
- B redução do número de linhas de pesquisas acadêmicas.
- C manutenção da qualidade das universidades do setor privado.
- D reprodução das desigualdades de oportunidades educacionais.

QUESTÃO 40

Aspectos da agricultura familiar comparados a não familiar



IBGE. Censo agropecuário de 2006. Disponível em: www.mma.gov.br. Acesso em: 3 ago. 2014 (adaptado).

A análise do gráfico demonstra que a agricultura familiar apresenta vantagem econômica com relação ao(à)

- A** geração de lucro.
- B** volume da produção.
- C** utilização de maquinários.
- D** emprego de trabalhadores.

QUESTÃO 41

A definição mais aceita para desenvolvimento sustentável é o desenvolvimento capaz de suprir as necessidades da geração atual, sem comprometer a capacidade de atender às necessidades das futuras gerações. É o desenvolvimento que não esgota os recursos para o futuro. Essa definição surgiu na Comissão Mundial sobre Meio Ambiente e Desenvolvimento, criada pelas Nações Unidas para discutir e propor meios de harmonizar dois objetivos: o desenvolvimento econômico e a conservação ambiental.

Disponível em: www.wwf.org.br. Acesso em: 5 jun. 2014.

A iniciativa que atende ao modelo de desenvolvimento citado no texto é o(a)

- A** incentivo à pesca industrial.
- B** uso de combustíveis fósseis.
- C** promoção da agricultura orgânica.
- D** desativação de usinas hidrelétricas.



QUESTÃO 42

golpe de 1964
golpe de 196
golpe de 19
golpe de
golpe d
golpe
golp
gol
gol d
gol do
gol do B
gol do Br
gol do Bra
gol do Bras
gol do Brasi
gol do Brasil!

CARNEIRO, M. Disponível em: <https://38.media.tumblr.com>. Acesso em: 28 jul. 2014.

O poema traz uma crítica a um momento histórico brasileiro indicando que o esporte era utilizado como

- A** instrumento de dominação política.
- B** elemento de realização pessoal.
- C** promotor de vida saudável.
- D** fator de ascensão social.

QUESTÃO 43

Todo dia é dia de índio

Preconceitos em nossa sociedade nutrem estereótipos sobre as populações indígenas. O resultado é um jeito de enxergar os índios, condenando-os a serem “primitivos” ou considerando que o fato de os nossos contemporâneos usarem celulares, aparelhos de televisão ou computadores os torna “menos índios”. Como se mais de 500 anos de contatos entre os índios e a sociedade não indígena não tivessem consequências e fosse possível esperar que os atikuns, terenas, xavantes, baniwas, kaingangs e tantos outros apresentem comportamentos e cultura material semelhantes aos de seus ancestrais.

SILVA, G. J. *Revista de História da Biblioteca Nacional*, n. 82, jul. 2012 (adaptado).

O preconceito descrito no texto reforça a

- A** separação de tribos locais.
- B** exclusão de grupos minoritários.
- C** preservação das identidades regionais.
- D** valorização das inovações tecnológicas.

QUESTÃO 44

No final do século XIX e nas duas primeiras décadas do século XX, o processo de conhecimento sobre futebol, tanto na Argentina quanto no Brasil, ocorreu de uma maneira múltipla e complementar. Ao mesmo tempo que as elites praticavam com a bola nos colégios, as camadas populares jogavam nos terrenos baldios, construindo seus laços com o esporte.

SANTOS, R. P. **Entre rivais**: futebol, racismo e modernidade no Rio de Janeiro e em Buenos Aires (1897-1924). Rio de Janeiro: Mauad, 2012 (adaptado).

Ao comentar o desenvolvimento do futebol em dois países, o texto chama a atenção para o aspecto do(a)

- A falta de preparação física.
- B atuação dos governos locais.
- C distanciamento das classes sociais.
- D importância da influência estrangeira.

QUESTÃO 45



BECK, A. Disponível em: www.livrosepessoas.com. Acesso em: 17 ago. 2014.

A atitude discriminatória apresentada na tirinha é reflexo da

- A homofobia institucional.
- B intolerância religiosa.
- C sociedade patriarcal.
- D prática racista.

QUESTÃO 46

Criado em 1961 para evitar que os moradores da Alemanha Oriental, comunista, se mudassem para a Alemanha Ocidental, capitalista, o Muro de Berlim repartiu a cidade em duas durante a Guerra Fria. Até que, em 1989, o governo da Alemanha Oriental anunciou que seus cidadãos poderiam cruzar o muro para visitar a parte ocidental, o que era proibido antes.

Disponível em: <http://revistagalileu.globo.com>. Acesso em: 11 ago. 2014.

A permissão citada no texto simbolizou o fim de um período marcado pela

- A divisão política mundial.
- B fragilidade militar europeia.
- C convivência étnica pacífica.
- D integração econômica internacional.



QUESTÃO 47

Os países reconquistados, ou que voltavam a ser católicos, tinham que seguir o programa traçado em 1554 por Inácio de Loyola, o qual determinava que os reis não poderiam permitir em sua administração a presença de heréticos. Essa determinação era fruto da criação, em 1542, pelo papa, da congregação da Inquisição.


DELUMEAU, J. **Nascimento e afirmação da Reforma**. São Paulo: Pioneira, 1989 (adaptado).

A criação da instituição mencionada no texto teve como objetivo combater, no continente europeu, aqueles que

- A** viviam do lucro comercial.
- B** recusavam a língua latina.
- C** apoiavam a arte renascentista.
- D** divergiam da religião predominante.

QUESTÃO 48

TEXTO I



STORNI. **Careta**, n. 974, 1927 (adaptado).

TEXTO II

Durante a chamada República Velha (1889 a 1930), as eleições, apesar de diretas e periódicas, serviam tão só para legitimar o controle do governo pelas elites políticas estaduais através do poder dos coronéis. As fraudes ocorriam em todas as fases do processo eleitoral (alistamento, voto, apuração, reconhecimento dos eleitos), de forma institucionalizada e estatizada.

MACIEL, A. R. R. Disponível em: www.boletimjuridico.com.br. Acesso em: 21 jul. 2017.

No período a que a imagem e o texto se referem, o processo eleitoral limitava a

- A** força da elite.
- B** renda do eleitor.
- C** liberdade de escolha.
- D** jurisdição do governo.



QUESTÃO 49

Em 1897, ocorreu um conflito armado que opôs a população de Canudos, no interior da Bahia, e o recém-criado governo da República. Enviado como repórter à região conflagrada, o engenheiro Euclides da Cunha lá permaneceu durante as três semanas finais do conflito, tendo presenciado o dramático desfecho da guerra, com o massacre dos sertanejos. Cinco anos mais tarde, publicou o livro *Os sertões*, que se tornou um clássico, com implicações ainda mais amplas do que o evento histórico narrado.

LIMA, N. T. Campo e cidade: veredas do Brasil moderno. In: BOTELHO, A.; SCHWARCZ, L. M. (Org.). **Agenda brasileira**: temas de uma sociedade em mudança. São Paulo: Cia. das Letras, 2011 (adaptado).

O impacto da obra literária mencionada está relacionado ao fato de ter chamado a atenção para a

- A** divisão partidária da sociedade brasileira.
- B** formação política do exército nacional.
- C** migração forçada dos camponeses nordestinos.
- D** situação sociocultural do interior do país.

QUESTÃO 50

O Brasil rural não é só agrícola

Em 1950, 64% dos brasileiros viviam no campo, nas contas do Instituto Brasileiro de Geografia e Estatística (IBGE). Vinte anos depois, com a modernização da agricultura e a migração em direção aos centros urbanos, esse percentual caiu para 44%. Nos anos de 1980, no entanto, as estatísticas surpreenderam: apesar da queda no emprego agrícola, a população ocupada crescia, sinalizando que um profundo processo de mudanças estava em curso. Mais duas décadas, e o novo cenário se delineou: a agropecuária moderna e a agricultura de subsistência estavam dividindo espaço com atividades ligadas à prestação de serviços, à indústria, ao turismo e ao lazer.

IZIQUÉ, C. **Revista Pesquisa Fapesp**, maio 2012 (adaptado).

No campo, as mudanças descritas resultam na

- A** ampliação das reservas ambientais.
- B** desvalorização do modo de vida urbano.
- C** diversificação das atividades econômicas.
- D** redução do fornecimento de créditos rurais.



QUESTÃO 51



Palafitas no bairro chamado Terra Firme, em Belém (PA).

ARAÚJO, T. Disponível em: www1.folha.uol.com.br. Acesso em: 26 ago. 2014.

Os alicerces das casas são de madeira e foram erguidos sobre fétidos córregos que acumulam lixo e dejetos. Quando chove, a água suja invade as casas, que correm o risco de desabar. Nas chamadas palafitas, habitações da periferia de Belém (PA), o saneamento básico não chegou, e a energia elétrica, em alguns casos, é obtida clandestinamente.

TALENTO, A. **Mais da metade da Grande Belém vive em casas precárias.** Disponível em: www1.folha.uol.com.br. Acesso em: 26 ago. 2014.

Um fator que explica o problema socioambiental apresentado é a

- A** facilidade de transporte viário.
- B** falta de planejamento público.
- C** ausência de recursos naturais.
- D** proximidade do comércio local.

QUESTÃO 52

A invenção do avião tornou os transportes mais rápidos e facilitou a vida do homem, principalmente no caso de longas distâncias. Quando a aviação começou a crescer significativamente, em meados do século XX, chegou-se até a pensar que o transporte de um continente para outro por meio de navios perderia espaço, o que não aconteceu.

GIMENEZ, K. **Os oceanos:** o movimento da vida em um universo pouco conhecido. São Paulo: Atual, 2008.

Qual o fator determinante para que a previsão citada no texto não se concretizasse?

- A** Infraestrutura simplificada dos portos.
- B** Segurança no deslocamento marítimo.
- C** Rapidez para a circulação de pessoas.
- D** Capacidade de carga das embarcações.



QUESTÃO 53

Em 1913, Henry Ford lançou a moderna linha de montagem em sua fábrica, nas proximidades de Detroit, com a qual provocou uma transformação radical da produção e da sociedade norte-americana. Reduziu o tempo necessário para montar um Ford Modelo T, de 12,5 horas para apenas 93 minutos. Henry Ford dizia que se pudesse economizar a cada um de seus trabalhadores 50 passos diários, poderia economizar milhares no final do ano.

Há um século, a linha de montagem da Ford mudava a sociedade. Disponível em: <http://exame.abril.com.br>. Acesso em: 25 jul. 2014 (adaptado).

Um impacto do modelo produtivo descrito para o setor industrial foi a

- A** redução dos estoques.
- B** diversificação de bens.
- C** especialização de tarefas.
- D** desorganização dos sindicatos.

QUESTÃO 54

A primeira colheita mecanizada de arroz no Brasil começou nos anos 1930, no Rio Grande do Sul. Era o início de um processo que teria consequências não apenas na economia, mas em toda a sociedade. Em algumas décadas, o país passou da tração animal para a máquina, da subsistência para a economia de escala no campo, da agricultura tradicional para a agroindústria.

MONTEIRO, A. **Décadas de mudanças.** Disponível em: <http://revistagloborural.globo.com>. Acesso em: 30 jul. 2014 (adaptado).

O processo de transformação descrito no texto contribuiu para qual mudança na estrutura agrária brasileira?

- A** Crescimento de áreas desapropriadas.
- B** Estímulo do consumo regional.
- C** Aumento da produção rural.
- D** Impulso do cultivo familiar.

QUESTÃO 55

O período que se estende de 1850 a 1920 constitui-se no período em que a rede urbana amazônica ganha nova dimensão, quer em termos econômicos, quer em termos espaciais. Esse período tem como pano de fundo o auge do extrativismo da borracha, que revigorou tanto a economia como a rede urbana.

CORRÊA, R. L. **Estudos sobre a rede urbana.** Rio de Janeiro: Bertrand Brasil, 2006.

Um fator socioeconômico que estimulou o surgimento da atividade citada foi o

- A** abastecimento do mercado externo.
- B** esvaziamento das aldeias indígenas.
- C** desenvolvimento do transporte regional.
- D** crescimento das atividades ecoturísticas.



QUESTÃO 56

Era essencial para o projeto político de Getúlio Vargas que não apenas os discursos, mas canções, e até mesmo os jogos de futebol transmitidos pela Rádio Nacional, ensinassem às massas o modo “correto” de perceber as coisas, que deveria funcionar também como uma espécie de filtro através do qual a realidade deveria ser vista. Considerando o caráter do Estado Novo, o método correto de perceber a realidade estaria intimamente ligado ao privilégio de ser brasileiro: as pessoas comuns poderiam ser pobres, subnutridas e ignorantes, mas eram, por outro lado, abençoadas por Deus por terem nascido e crescido neste país.

DUARTE, R. **Indústria cultural**: uma introdução. Rio de Janeiro: Editora FGV, 2010 (adaptado).

O texto analisa a forma como Getúlio Vargas utilizava os meios de comunicação visando reforçar uma característica do Estado Novo, que foi o:

- A** Industrialismo.
- B** Trabalhismo.
- C** Reformismo.
- D** Nacionalismo.

QUESTÃO 57

No ano de 1269, um bispo da cidade portuguesa do Porto deixou em testamento ao tesoureiro do cabido 50 *maravedis*, em moedas, para comprar um *Código legal*, e outros 50 *maravedis* a um sobrinho para comprar umas *Decretais*. Para dar uma ideia desses preços: 1 *maravedi* era o preço de quatro carneiros vivos, ou um porco grande; 3 *maravedis* era o preço de um boi dos melhores. Assim, cada um dos livros a que se refere o testamento do citado bispo valia aproximadamente 17 bois; ou 50 porcos; ou 200 carneiros.

SARAIVA, A. J. J. **História da cultura em Portugal**. Lisboa: Jornal do Foro, 1950 (adaptado).

Um fator que limitava a leitura, no contexto citado, era a

- A** carência crônica de tempo de lazer.
- B** circulação restrita de obras escritas.
- C** produção voltada à atividade científica.
- D** preferência popular pelas artes teatrais.

QUESTÃO 58

Está reestabelecido no país o princípio da eleição direta para presidente da República em dois turnos, com data a ser fixada pela Constituinte. As capitais dos estados também poderão escolher seus prefeitos municipais. Por 458 votos a favor na Câmara, 62 no Senado e nenhum contra, essas mudanças constitucionais foram aprovadas pelo Congresso no dia 8 de maio de 1985.

Folha de São Paulo, 9 maio 1985 (adaptado).

O fato político institucional, mencionado no texto, está associado à

- A** promulgação da Lei da Anistia política.
- B** instalação do sistema multipartidário no Brasil.
- C** definição do plebiscito sobre o regime de governo.
- D** contribuição do movimento pela redemocratização do país.



QUESTÃO 59

A queima da cana-de-açúcar para colheita traz sérias consequências, tais como: desequilíbrios na flora e fauna; diminuição da qualidade do ar nas cidades e o aumento do efeito estufa, bem como a destruição da camada de ozônio. No entanto, a mecanização da colheita pode gerar desastrosos impactos sociais. Uma máquina colhedora substitui cerca de 100 trabalhadores, e como consequência, decerto ocorrerá um aumento significativo do número de pessoas desempregadas no país, além de contribuir para a diminuição da qualidade social dessa mão de obra carente de postos de trabalhos na sociedade.

MARTINS, M. S. R. **Os impactos sociais e econômicos da mecanização da colheita da cana-de-açúcar.** Disponível em: www.portaldoagronegocio.com.br. Acesso em: 5 dez. 2012.

No texto, são analisados dois efeitos possíveis da mecanização na agricultura, um positivo e outro negativo, os quais estão relacionados, respectivamente, ao(à)

- A** natureza e ao consumo.
- B** clima e à produção.
- C** ambiente e ao emprego.
- D** poluição e à tecnologia.

QUESTÃO 60

A ocupação da costa brasileira foi marcada pela condição de área de defesa, com o estabelecimento de fortes marcando as primeiras instalações, seguida das atividades de extração do pau-brasil e da cultura de cana-de-açúcar.

IBGE. **Atlas das representações literárias de regiões brasileiras.** Rio de Janeiro: IBGE, 2009.

Essas atividades contribuíram para qual aspecto do povoamento do território brasileiro?

- A** Proteção da diversidade natural.
- B** Fixação dos colonizadores europeus.
- C** Valorização das populações nativas.
- D** Consolidação da soberania nacional.



* B M R 2 2 5 A Z C H 1 6 *

enC@eja ²⁰¹⁷

Exame Nacional para Certificação de
Competências de Jovens e Adultos