



enC@jeja

2017

Exame Nacional para Certificação de
Competências de Jovens e Adultos

Ensino Fundamental

Prova 2 - Manhã
História e Geografia

2ª Aplicação

Leia com atenção as instruções abaixo:

1. Ao receber este Caderno de Prova, confira se contém trinta questões, corretamente ordenadas de 31 a 60. Caso o caderno esteja incompleto ou tenha qualquer defeito, solicite imediatamente ao Aplicador que tome as providências cabíveis.
2. Leia atentamente cada questão antes de decidir qual opção assinalar. Lembre-se: cada questão tem uma única opção correta.
3. Inicialmente, marque as suas respostas neste Caderno de Prova. Em seguida, transcreva-as para o Cartão-Resposta preenchendo completamente os círculos correspondentes. Utilize caneta esferográfica de tinta preta fabricada com material transparente. Lembre-se: o Cartão-Resposta é o único documento válido para a correção da sua prova objetiva.
4. Ao terminar a prova, chame o Aplicador e devolva-lhe este Caderno de Prova e o seu Cartão-Resposta.
5. A duração das provas, deste turno, é de quatro horas, já incluído o tempo destinado ao preenchimento do Cartão-Resposta.



INEP MINISTÉRIO DA
EDUCAÇÃO





QUESTÃO 31

Os direitos do homem, por mais fundamentais que sejam, são direitos históricos, ou seja, nascidos em certas circunstâncias, caracterizados por lutas em defesa das novas liberdades contra velhos poderes, e nascidos de modo gradual, não todos de uma vez, nem de uma vez por todas.

BOBBIO, N. **A era do direito**. Rio de Janeiro: Campus, 1992.

As considerações do texto colocam os direitos humanos como resultado de

- A** avanço da economia.
- B** decisão do Judiciário.
- C** iniciativa da imprensa.
- D** mobilização da sociedade.

QUESTÃO 32

O jornal alemão *Münchener Post* foi o primeiro a enxergar, nos discursos de Hitler, o perigo que este representava. Combateu sem tréguas o líder nazista ao longo de mais de uma década, de 1920 a 1933, até que Hitler se tornou ditador da Alemanha e determinou a destruição do jornal, depois de anos de perseguição e violência contra os repórteres.

LIMA, P. Disponível em: www.observatoriodaimprensa.com.br. Acesso em: 20 ago. 2013 (adaptado).

A Constituição em vigor impede que o governo brasileiro tome medidas iguais às descritas no texto, uma vez que ela garante a todos os cidadãos a liberdade de

- A** crença e culto religioso.
- B** voto e participação política.
- C** reunião e associação pacífica.
- D** opinião e expressão do pensamento.



QUESTÃO 33

A Serra do Mar é uma região de importância estratégica para o Brasil, tanto pelo desenvolvimento sustentável, por abrigar as porções remanescentes da Mata Atlântica, quanto pelo desenvolvimento econômico, favorecido pelas ferrovias, rodovias, dutovias e instalações industriais e portuárias. Entretanto, essa região sofre recorrentes deslizamentos nas suas encostas, causando grandes prejuízos e várias mortes. Esses eventos são de natureza hidrometeorológica, associados a uma região de serra, com forte declividade submetida a ações antrópicas.

Projeto Serra do Mar: estudos da previsibilidade de eventos meteorológicos extremos na Serra do Mar. Disponível em: <http://serradomar.cptec.inpe.br>. Acesso em: 20 mar. 2009 (adaptado).

O desenvolvimento de um sistema de previsibilidade de eventos meteorológicos extremos na Serra do Mar, com análises das condições atmosféricas e dos usos do solo, promoveria a

- A** correção da declividade do terreno local.
- B** classificação de áreas de risco impróprias a atividades humanas.
- C** proibição das atividades econômicas desenvolvidas.
- D** diminuição dos índices de chuva na região.

QUESTÃO 34

No Carnaval, na década de 30, os segmentos populares estavam dispostos a aproveitar ao máximo sua festa maior, lançando mão de armas próprias: a irreverência, o deboche, afirmando sua presença nos espaços dos quais se pretendia excluí-los.

SOIHET, R. O povo na rua: manifestações culturais como expressão de cidadania. In: FERREIRA, J.; DELGADO, L. A. N. (Org.). **O Brasil republicano**: o tempo do nacional-estatismo. Rio de Janeiro: Civilização Brasileira, 2003.

De acordo com o texto, a presença das camadas populares nos carnavais da década de 1930 no Brasil era um ato de

- A** cópia da cultura estrangeira.
- B** resistência aos valores da elite.
- C** substituição da cultura nacional.
- D** acomodação aos valores dominantes.



QUESTÃO 35

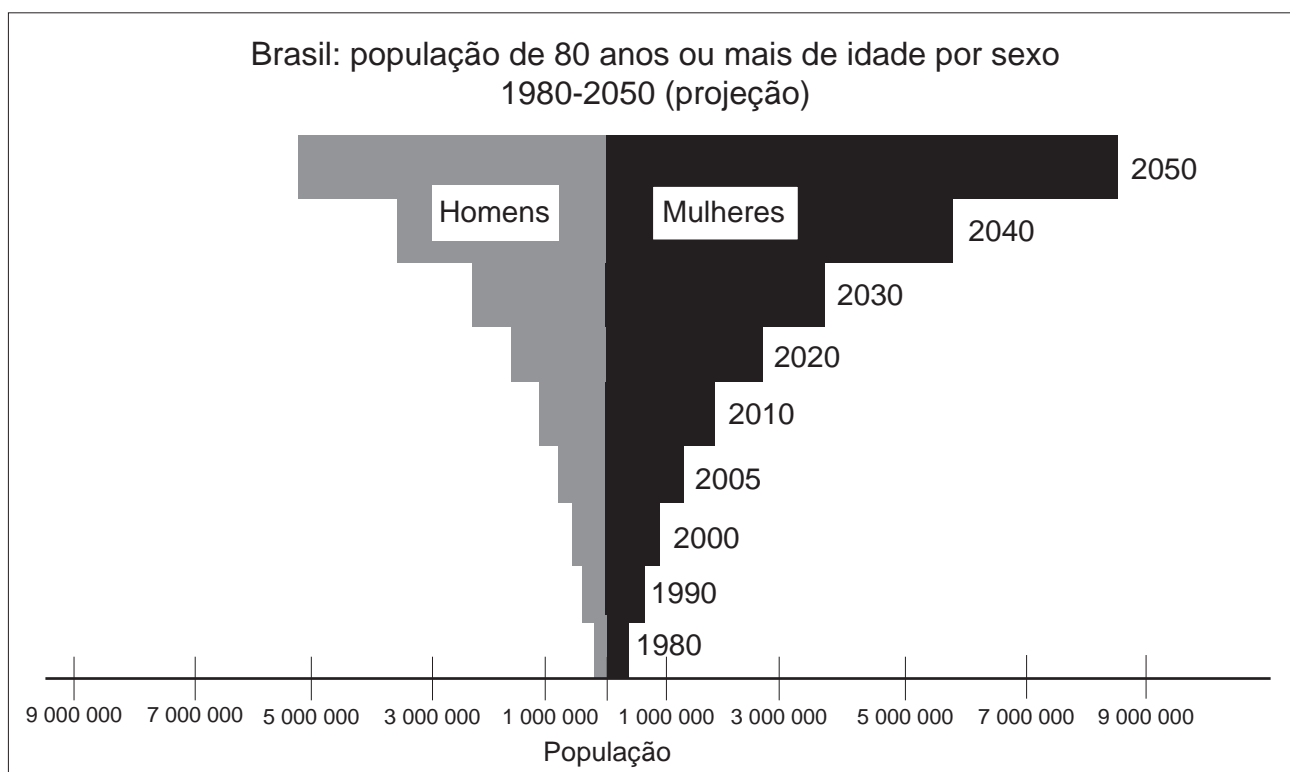
Além de sua fábrica a vapor, o português José de Seixas Magalhães possuía uma chácara no Leblon, região da cidade do Rio de Janeiro, onde cultivava flores com o auxílio de escravos fugidos. Seixas ajudava os fugitivos e os escondia na chácara com a cumplicidade dos principais abolicionistas da capital do Império.

SILVA, E. *As camélias do Leblon e a Abolição da escravatura*. Disponível em: www.casaruibarbosa.gov.br. Acesso em: 31 ago. 2014 (adaptado).

Que forma de resistência à escravidão é demonstrada no texto?

- A** Formação de quilombo urbano.
- B** Organização de irmandade religiosa.
- C** Compra de carta de alforria.
- D** Assassinato de proprietário cruel.

QUESTÃO 36



IBGE. Disponível em: www.ibge.gov.br. Acesso em: 15 dez. 2012 (adaptado).

A análise do gráfico revela que a população da faixa etária em questão sofrerá uma alteração cuja tendência será de

- A** redução.
- B** elevação.
- C** oscilação.
- D** estagnação.

QUESTÃO 37



SOUSA, M. Disponível em: <http://afadadanatureza.blogspot.com>. Acesso em: 28 abr. 2011.

Ao se apropriar da natureza, o homem começou a produzir o espaço geográfico de acordo com a utilização de técnicas cada vez mais transformadoras em busca do progresso. Analisando a imagem, podemos compreender que nesse processo o homem se apropria da natureza

- A** valorizando-a como paisagem natural.
- B** modificando-a de acordo com a visão do lucro.
- C** relacionando-a harmoniosamente com o progresso.
- D** transformando-a levando em conta as futuras gerações.



QUESTÃO 38

Os registros da atuação do Ministério do Trabalho trazem informações sobre a exploração de meninas e meninos. São mais de 200 casos de exposição a abusos físicos, psicológicos e sexuais em prostíbulos, cabarés e bares. Esses dados não levam em conta uma parcela que permanece invisível, formada por crianças a serviço do tráfico de drogas ou desempenhando atividades no serviço doméstico infantil, mais difícil de comprovar.

Disponível em: <http://oglobo.globo.com>. Acesso em: 2 set. 2010 (adaptado).

A situação de exploração descrita, da perspectiva dessas crianças, ocorre em função de causas como a

- A** complementação da renda familiar.
- B** elevação do controle governamental.
- C** diminuição das desigualdades sociais.
- D** ampliação da qualificação profissional.



QUESTÃO 39

TEXTO I

O governo Médici foi de grande progresso para o país, a melhor fase de todos os governos revolucionários. O índice de crescimento da economia brasileira foi superior a 10% ao ano e houve um grande desenvolvimento do espírito e orgulho nacional.

Depoimento do contra-almirante Luiz Pragana da Frota. In: MOTTA, A. M. (Org.). **1964 – 31 de março:** o movimento revolucionário e a sua história. Rio de Janeiro: Biblioteca do Exército, 2003.

TEXTO II

O governo Médici teve este aspecto contraditório: ao mesmo tempo em que reprimia ferozmente a oposição, apresentava-se como fase de euforia econômica perante o resto da população.

CARVALHO, J. M. **Cidadania no Brasil:** o longo caminho. Rio de Janeiro: Civilização Brasileira, 2008.

Comparando-se as duas interpretações apresentadas sobre o governo do general Médici (1969-1974), durante a ditadura militar, dois aspectos desse período, destacados nos textos, estão contidos, respectivamente, em:

- Ⓐ Culto à nação — conquistas sociais.
- Ⓑ Desenvolvimento econômico — uso da violência.
- Ⓒ Distribuição de renda — liberdade de expressão.
- Ⓓ Reformas políticas — queda das exportações.



QUESTÃO 40



DINIZ, A. **O índio e o europeu**. Disponível em: <http://rededosaber.sp.gov.br>. Acesso em: 21 jul. 2017 (adaptado).

O diálogo faz referência a qual atividade econômica registrada pela história colonial do Brasil?

- A** Extração do ouro.
- B** Produção do café.
- C** Corte do pau-brasil.
- D** Cultivo da cana-de-açúcar.



QUESTÃO 41

Mesmo durante o verão, 95% da área da Antártica é recoberta por gelo, configurando-se como o maior depósito de água doce do mundo. É curioso observar que, em épocas passadas, a busca por riquezas minerais, tais como petróleo e ouro, foi um dos principais motivadores para as tentativas de ocupação da Antártica; e hoje a água contida na forma de gelo já começa a movimentar investimentos, bem como a elevação do título do que era apenas “água” para “petróleo azul”.

ALVAREZ, C. E. **O último continente**. Disponível em: www.revistadehistoria.com.br. Acesso em: 15 ago. 2014 (adaptado).

A valorização do cenário natural descrito é decorrente do temor global da

- A** contaminação do ar frio.
- B** ocorrência de ondas gigantes.
- C** escassez de recursos hídricos.
- D** repartição de terras congeladas.



QUESTÃO 42

No Brasil, as mudanças de comportamento reprodutivo tiveram impacto excepcional não só sobre o ritmo de crescimento geral da população mas também sobre a distribuição e o crescimento dos diversos grupos de idade, refletindo-se em alterações na pirâmide etária.

IBGE. **A dinâmica demográfica brasileira e os impactos nas políticas.**
Disponível em: www.ibge.gov.br. Acesso em: 4 ago. 2014 (adaptado).

Um aspecto social que explica a mudança demográfica apresentada no texto é o(a)

- A** atuação da mulher no mercado de trabalho.
- B** aumento da mortalidade de homens jovens.
- C** crescimento dos índices migratórios internos.
- D** adoção de crianças por casais homoafetivos.

QUESTÃO 43

Há casas, casinhas, casebres, barracões, choças por toda a parte onde se possa fincar quatro estacas de pau e uni-las por paredes duvidosas. Todo o material para essas construções serve: são latas de fósforos distendidas, telhas velhas, folhas de zinco e, para as nervuras das paredes de taipa, o bambu, que não é barato.

BARRETO, L. **Clara dos Anjos.** Rio de Janeiro: Ediouro, s.d.

Do ponto de vista sócio-histórico, os tipos de moradia citados, surgidos a partir do início do século XX, indicam a

- A** preocupação de usar materiais recicláveis.
- B** ocupação de áreas de preservação ambiental.
- C** construção de habitações populares insalubres.
- D** formação de núcleos de planejamento habitacional.



QUESTÃO 44

Os calons constituem uma das principais populações designadas genericamente como “ciganas” em solo europeu e chegaram a Portugal em levas sucessivas pouco antes de 1450. Perseguidos, foram impedidos de “ter traje ou vestimenta” diferenciados, morar em número superior a dois casais na mesma rua, viver como nômades, exercer ofício de ambulante ou comerciante de cavalos, ler a sorte e falar sua língua.

ARAÚJO, S.; FARIA, A. G. Lundu à cigana? **Revista de História da Biblioteca Nacional**, set. 2007 (adaptado).

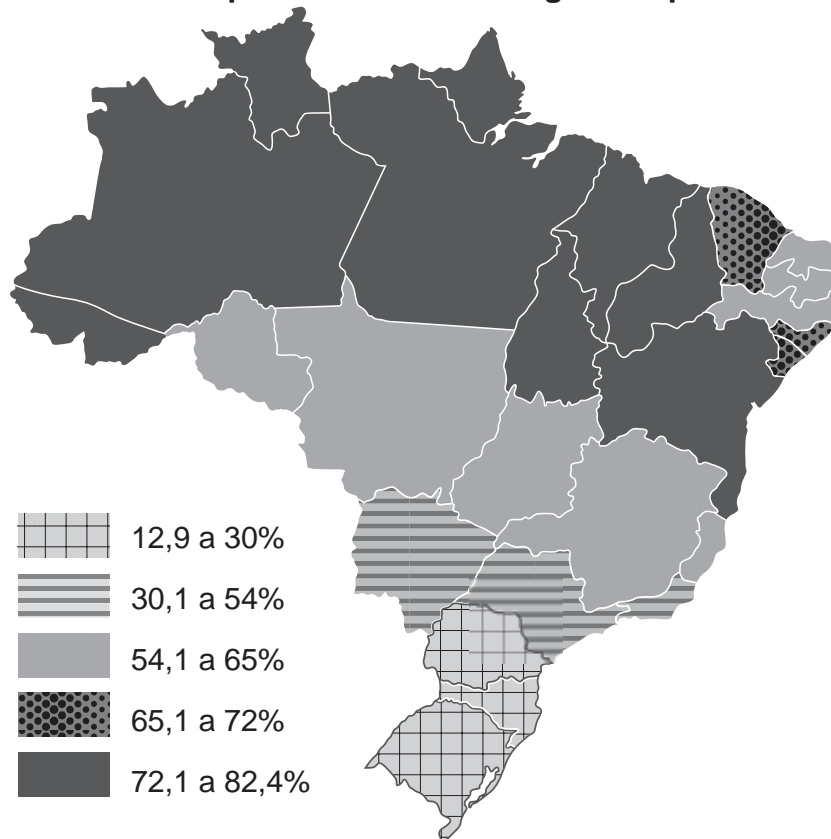
Na situação apresentada, as atitudes tomadas pelos portugueses em relação aos ciganos são um exemplo histórico de

- A** construção de sociedade igualitária.
- B** eliminação de migrantes estrangeiros.
- C** transformação de práticas religiosas.
- D** repressão de costumes diferentes.



QUESTÃO 45

Pessoas que se declararam negras ou pardas



Disponível em: <http://noticias.uol.com.br>. Acesso em: 29 jul. 2014 (adaptado).

Qual é o fenômeno populacional que explica a situação verificada na Região Sul?

- A** Concentração das famílias nas cidades.
- B** Redução da taxa de natalidade.
- C** Deslocamento de trabalhadores rurais.
- D** Entrada de imigrantes europeus.



QUESTÃO 46

Somente a partir de meados da década de 1960, a agricultura brasileira inicia o processo de modernização, com a chamada Revolução Verde. Como consequências do processo são apontados, além da acirrada concorrência no que diz respeito à produção, os efeitos sociais e econômicos sofridos pela população envolvida com atividades rurais.

BALSAN, R. Impactos decorrentes da modernização da agricultura brasileira.
Campo-Território: Revista de Geografia Agrária, n. 2, ago. 2006.

Um impacto socioespacial no período descrito, derivado do processo de modernização, foi:

- A** Diversificação da oferta de alimentos.
- B** Exigência de qualificação da mão de obra.
- C** Favorecimento da produção de base familiar.
- D** Melhoria do equilíbrio da distribuição de terras.

QUESTÃO 47

O samba de roda do Recôncavo Baiano é uma expressão musical, coreográfica, poética e festiva das mais importantes e significativas da cultura brasileira, tendo sido reconhecido como patrimônio cultural imaterial no ano de 2004. Exerceu influência no samba carioca e até hoje é uma das referências do samba nacional.

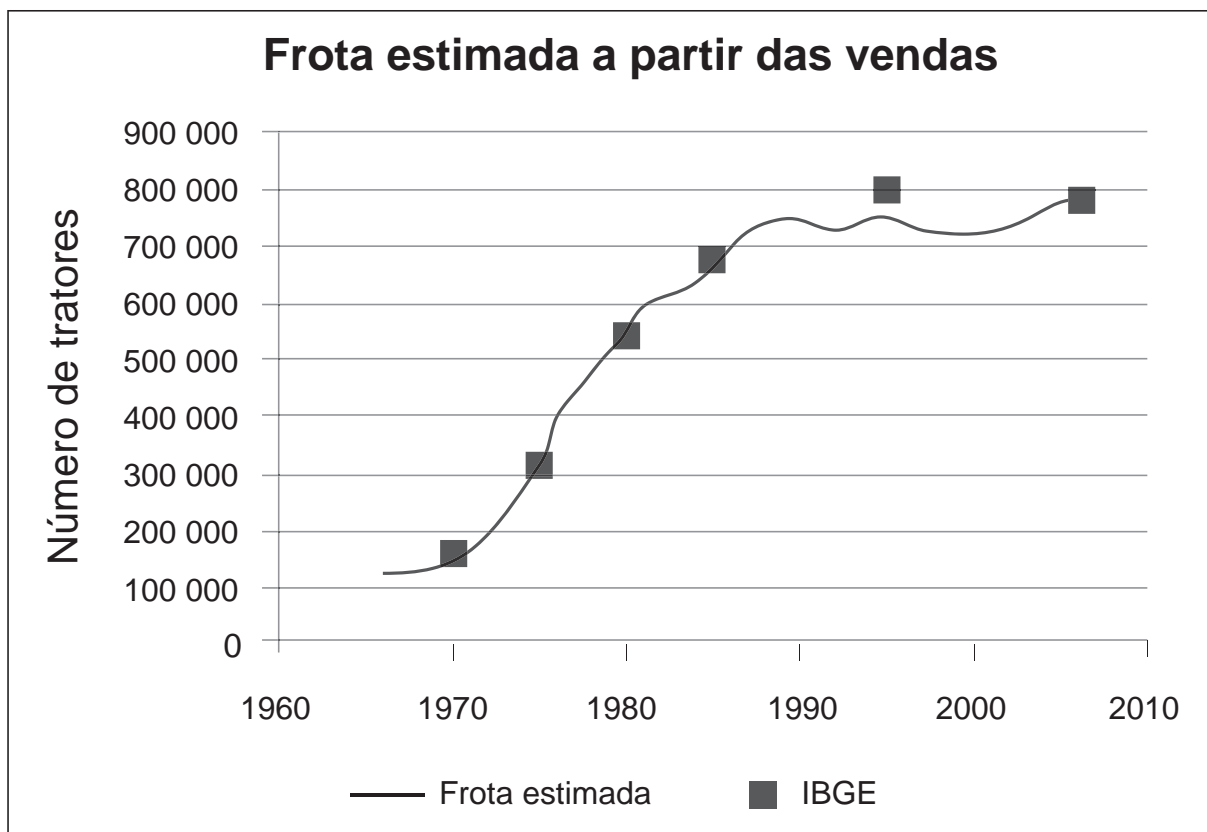
Disponível em: www.iphan.gov.br. Acesso em: 20 mar. 2009 (adaptado).

É relevante que o samba de roda do Recôncavo Baiano, como integrante do patrimônio cultural brasileiro, seja

- A** readaptado, por representar uma distorção do samba carioca.
- B** aprimorado, em razão das alterações coreográficas realizadas em 2004.
- C** redescoberto, pois se manteve isolado na região do Recôncavo Baiano.
- D** preservado, em razão de sua importância na constituição da identidade nacional.



QUESTÃO 48



ALVIM, C. F.; DIMANDE, C. D. **Indicadores de produtividade de capital na agropecuária brasileira.** Disponível em: www.ecen.com. Acesso em: 6 set. 2014 (adaptado).

A evolução no uso da tecnologia apresentada no gráfico indica a seguinte consequência socioespacial para o Brasil:

- A** Êxodo rural.
- B** Distribuição fundiária.
- C** Expansão ferroviária.
- D** Sustentabilidade ambiental.



QUESTÃO 49

Politicizada, pacífica, objetiva e marcada por uma febre de rebeldia e civismo que contagiou todas as classes, a campanha pelas Diretas Já completou 30 anos, em 2014, como o maior e mais consequente movimento de massas do Brasil.

Disponível em: <http://ultimosegundo.ig.com.br>. Acesso em: 31 jul. 2014 (adaptado).

O Congresso Nacional impediu a realização do objetivo dessa campanha ao recusar o(a)

- A** eleição do presidente da República pelo voto popular.
- B** gozo de direitos trabalhistas pelos operários industriais.
- C** exercício das liberdades individuais pela sociedade civil.
- D** realização de manifestações culturais pela classe intelectual.



QUESTÃO 50

As unidades de produção da indústria cimenteira são implantadas nos arredores das reservas de calcário, as quais são abundantes na faixa próxima ao litoral, em Minas Gerais e também nos estados do Centro-Oeste.

SANTOS, M.; SILVEIRA, M. L. **O Brasil**: território e sociedade no início do século XXI. Rio de Janeiro: Record, 2005 (adaptado).

Que fator explica a localização desse setor industrial nas áreas descritas no texto?

- A** Proximidade do mercado consumidor.
- B** Qualidade da rede de telecomunicações.
- C** Intensidade da presença de matéria-prima.
- D** Disponibilidade de trabalhadores qualificados.

QUESTÃO 51

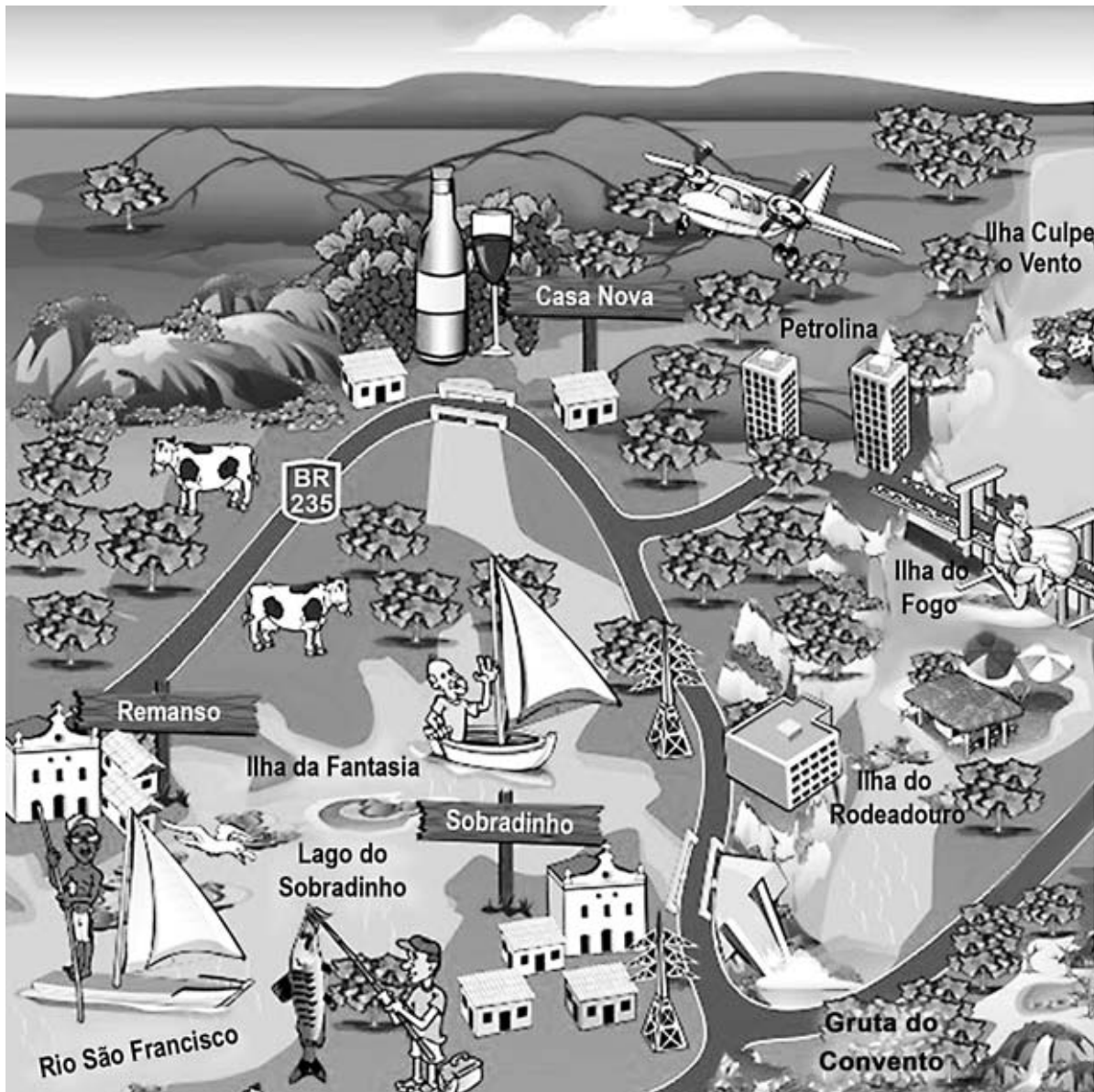
A Lei n. 13.010/14, que recebeu o nome de Lei Menino Bernardo, alterou parte do Estatuto da Criança e do Adolescente e passou a garantir às crianças e adolescentes o direito de serem educados sem o uso de castigos físicos, tratamento cruel ou degradante. Essa lei é uma mobilização social e um alerta para que nossas crianças sejam tratadas com o máximo de respeito, cuidado e carinho em seus lares.

Disponível em: www.sdh.gov.br. Acesso em: 11 set. 2014 (adaptado).

Essa lei tem como objetivo garantir condições dignas a crianças e adolescentes ao limitar a

- A** responsabilização da comunidade escolar.
- B** autonomia dos responsáveis legais.
- C** violência nas relações familiares.
- D** atuação do jovem infrator.

QUESTÃO 52



Disponível em: www.setur.ba.gov.br. Acesso em: 31 jul. 2014 (adaptado).

A representação cartográfica retrata que aspecto socioespacial da região?

- A** Degradação do meio natural.
- B** Situação da exploração social.
- C** Localização de atividades econômicas.
- D** Circulação de contingentes populacionais.



QUESTÃO 53

O patrimônio cultural imaterial é transmitido de geração a geração. É entendido por indivíduos e grupos sociais como um importante elemento de sua identidade e diz respeito àquelas práticas e domínios da vida social que se manifestam em saberes, ofícios e modos de fazer.

IPHAN. Disponível em: <http://portal.iphan.gov.br>. Acesso em: 4 ago. 2014 (adaptado).

Que elemento cultural se insere na definição de patrimônio apresentada no texto?

- A Culinária local.
- B Cidade histórica.
- C Paisagem natural.
- D Sítio arqueológico.

QUESTÃO 54



Disponível em: www.esalq.usp.br. Acesso em: 16 ago. 2014.

Esse é um dos ecossistemas mais importantes da costa brasileira. Distribuído do Amapá até Santa Catarina, tendo a maior concentração no Meio-Norte no estado do Maranhão, cobre aproximadamente 13 400 km ao longo de cerca de 80% do litoral.

Disponível em: www.ibama.gov.br. Acesso em: 16 ago. 2014 (adaptado).

A imagem e o texto referem-se a um santuário ecológico da vida costeira conhecido como:

- A** Duna.
- B** Mangue.
- C** Pantanal.
- D** Restinga.



QUESTÃO 55

TEXTO I

No Brasil, as marchas têm tido um caráter de protesto que vai além do pedido pelo fim da culpabilização das mulheres pelo estupro. A luta pelo fim da violência doméstica, física, simbólica e sexual também motivou as mulheres a saírem às ruas para exigir o fim do machismo.

Disponível em: www.observatoriodegenero.gov.br. Acesso em: 17 ago. 2014 (adaptado).

TEXTO II

Sábado teremos uma passeata em Curitiba, quando a edição local da “Marcha das Vadias” vai tentar desfazer o que resta de respeito à dignidade feminina, com direito a senhoras seminuas, com frases de efeito rabiscadas pelo corpo.

RAMALHETE, C. Disponível em: www.gazetadopovo.com.br. Acesso em: 17 ago. 2014 (adaptado).

Os textos retratam de maneira oposta um movimento que reivindica

- A** participação nas cotas de ensino.
- B** ampliação das leis trabalhistas.
- C** promoção da igualdade de sexo.
- D** remuneração do trabalho doméstico.

QUESTÃO 56

Lei de Anistia de 1979

Art. 1º – É concedida anistia a todos quantos, no período compreendido entre 2 de setembro de 1961 e 15 de agosto de 1979, cometeram crimes políticos ou conexo com estes.

BRASIL. Lei n. 6.683/79. Disponível em: www.planalto.gov.br. Acesso em: 8 ago. 2014.

A importância dessa lei para o processo de redemocratização do Brasil está relacionada ao(à)

- A** retorno de exilados ao país.
- B** fim da censura à imprensa.
- C** realização de eleições presidenciais.
- D** permissão de movimentos trabalhistas.



QUESTÃO 57



Disponível em: <http://peqinv1.unb.netdna-cdn.com>. Acesso em: 21 jul. 2014 (adaptado).

A partir do ano de 1996, o comportamento registrado no gráfico é explicado pelo

- A** descontrole dos gastos do governo.
- B** aumento dos índices de emprego.
- C** fortalecimento da moeda nacional.
- D** comprometimento da balança comercial.



QUESTÃO 58

Os analistas políticos ainda se debatem para decifrar os protestos de junho de 2013, mas ao menos um consenso parece estabelecido: tamanha mobilização recebeu o apoio da internet. As redes sociais publicaram fotos, vídeos e relatos da repressão aos manifestantes, e atraíram milhares de pessoas para ocupar as ruas das principais capitais.

MARTINS, R. Diálogo de surdos. **Carta Capital**, n. 768, 2 out. 2013 (adaptado).

Qual é a contribuição da internet para o fenômeno social descrito no texto?

- A** Disseminação das informações entre indivíduos e movimentos sociais.
- B** Desconstrução das lideranças e organizações rebeldes.
- C** Restrição da participação dos grupos de anônimos.
- D** Divulgação da legislação punitiva.



QUESTÃO 59

“Vale a pena ganhar menos. Agora tenho horário para entrar e sair!” No Brasil, a cozinheira de restaurante ganhava mais como doméstica, porém não aceita mais viver sem direito na casa dos patrões.

BONIZ, G. B.; MARTINS, R.; VIEIRA, W. Os serviços do Brasil. **Carta Capital**, n. 732, 23 jan. 2013 (adaptado).

Para garantir os direitos legais dessa classe de trabalhadores, foram criados mecanismos que promovem a

- A** flexibilização da jornada.
- B** revisão da remuneração.
- C** valorização da informalidade.
- D** regulamentação da profissão.

QUESTÃO 60

O que é trabalho escravo

A utilização da expressão “condição análoga à de escravo” deriva do fato de que a escravidão formal foi abolida pela Lei Áurea em 13 de maio de 1888.

Disponível em: <http://reporterbrasil.org.br>. Acesso em: 31 jul. 2014 (adaptado).

Essa prática tem sido combatida atualmente no Brasil porque consiste em

- A** violação de direitos humanos.
- B** fonte de prejuízos econômicos.
- C** desobediência de valores religiosos.
- D** afastamento de trabalhadores estrangeiros.



* B F R 2 2 5 A Z H G 2 4 *

en@ceja ²⁰¹⁷

Exame Nacional para Certificação de
Competências de Jovens e Adultos