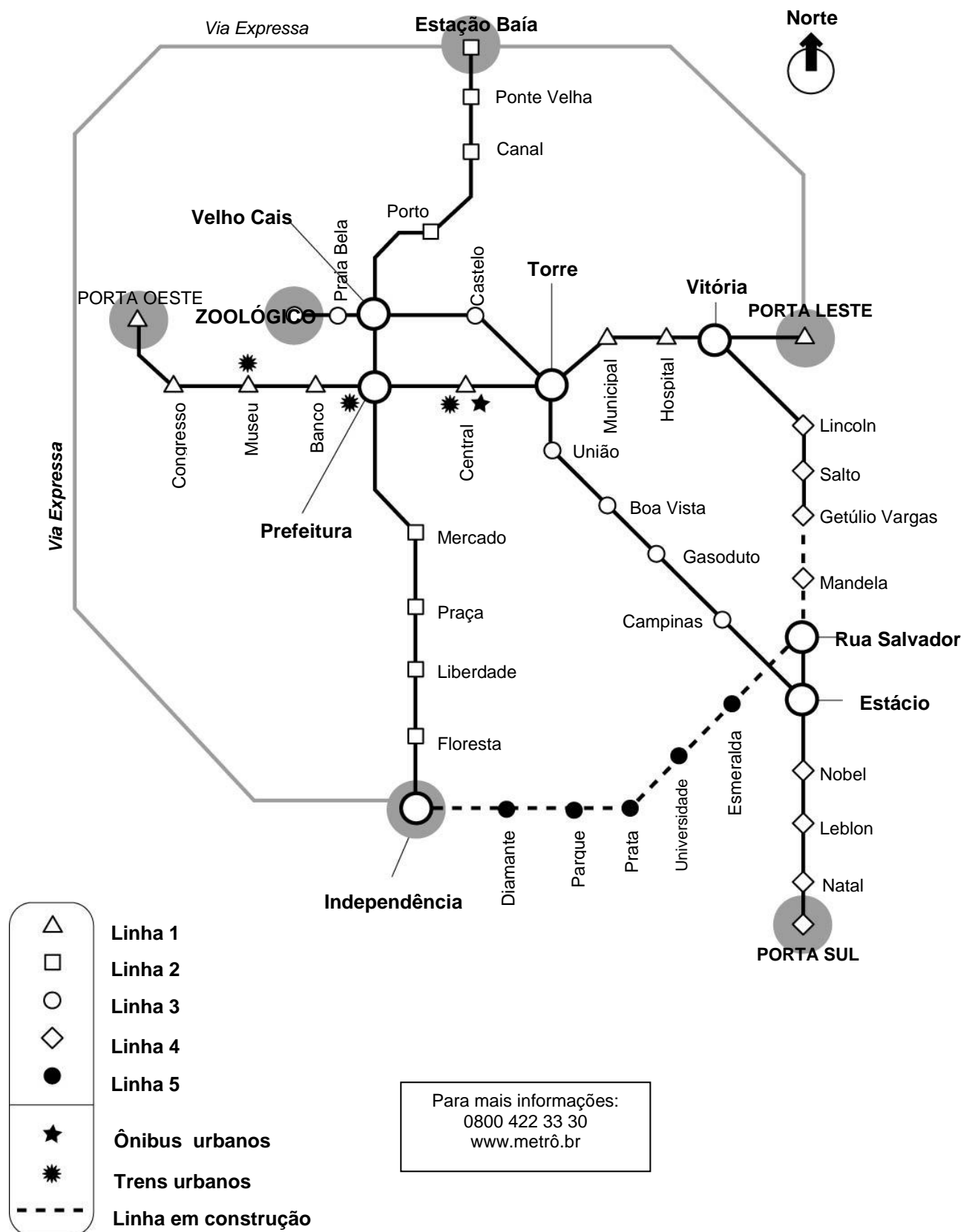


METRÔ



Na página anterior, “Metrô” fornece informações sobre um sistema de metrô subterrâneo.

Com base em “Metrô”, responda às seguintes questões.

Questão 1: METRÔ

R464Q01 – 0 1 9

Em qual estação de metrô é possível pegar tanto um ônibus como um trem urbano?

.....

METRÔ : CORREÇÃO 1

OBJETIVO DA QUESTÃO:

Acessar a informação e localizá-la: Localizar a informação.

Localizar informações estabelecendo as ligações em um mapa.

Crédito completo

Código 1: Faz explicitamente referência à estação Central. Pode mencionar a linha.

- A Estação Central.
- No Central.
- Central (Porta Leste).
- Central (Linha 1).

Nenhum crédito

Código 0: Outras respostas.

- Na Estação.
- Torre.
- Linha 1.

Código 9: Em branco.

Questão 2: METRÔ

R464Q02

Se você está na estação do Zoológico e você quer ir para a estação Ponte Velha, em qual estação você deve mudar de linha?

- A. Prefeitura
- B. Praia Bela
- C. Baía
- D. Velho Cais

METRÔ : CORREÇÃO 2

OBJETIVO DA QUESTÃO:

Acessar a informação e localizá-la: Localizar a informação.

Identificar uma junção em um mapa onde há múltiplas informações.

Crédito completo

Código 1: D. Velho Cais.

Nenhum crédito

Código 0: Outras respostas.

Código 9: Em branco.

Questão 3: METRÔ

R464Q03 – 0 1 9

Algumas estações, como Porta Oeste, Zoológico e Independência, estão marcadas com um círculo cinza. O que esses círculos indicam sobre as estações?

.....

METRÔ : CORREÇÃO 3

OBJETIVO DA QUESTÃO:

Refletir e avaliar: Refletir sobre a forma de um texto e avaliá-lo.

Identificar o objetivo de um elemento gráfico em um mapa.

Crédito completo

Código 1: Faz referência ao fato que todas essas estações se situam na extremidade de uma linha.

- No final da linha.
- É uma estação final.

Nenhum crédito

Código 0: Dá uma resposta insuficiente ou vaga.

Dá uma resposta que indica uma compreensão errada do texto ou que seja implausível ou irrelevante.

- Você pode pegar o ônibus nessas estações. *[Pode até ser, mas não é o que esses círculos indicam]*
- São as estações mais movimentadas.
- São as estações maiores.

Código 9: Em branco.

Questão 4: METRÔ

R464Q04 – 0 1 2 9

Você precisa achar o itinerário mais curto de metrô da estação Salto até a estação Floresta.

Trace sobre o mapa o itinerário que você deveria fazer.

METRÔ : CORREÇÃO 4

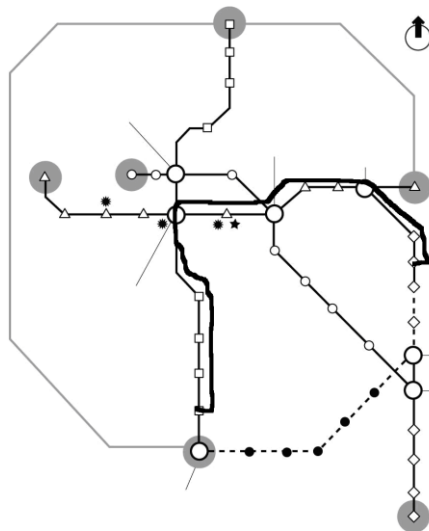
OBJETIVO DA QUESTÃO:

Acessar a informação e localizá-la: Localizar a informação.

Combinar várias informações de um mapa, para determinar o caminho mais curto entre dois pontos.

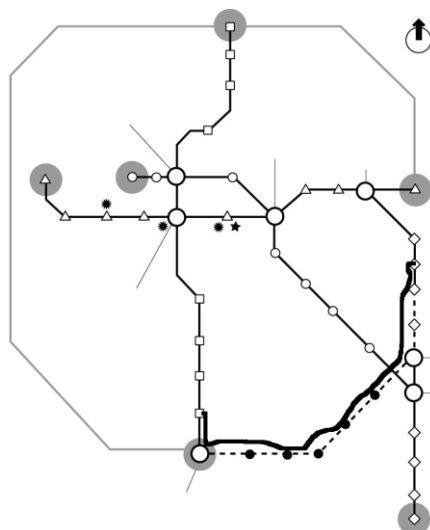
Crédito completo

Código 2: Traça o itinerário representado abaixo.



Crédito parcial

Código 1: Traça o itinerário representado abaixo.



Nenhum crédito

Código 0: Outras respostas.

Código 9: Em branco.

Questão 5: METRÔ

R464Q05 – 0 1 9

Como você pode obter outras informações sobre esse sistema de metrô, além das que estão representadas em “Metrô”?

.....
.....

METRÔ : CORREÇÃO 5

OBJETIVO DA QUESTÃO:

Acessar a informação e localizá-la: Localizar a informação.

Localizar uma informação explicitamente formulada em um mapa.

Crédito completo

Código 1: Mencionar o número de telefone OU o endereço na Internet indicados no quadro na parte baixa do mapa OU mencionar ambos.

- Ligaria para o número 0800 34 56 78 ou acessaria a página www.metrô.br.
- Ligaria para 0800 345678.
- www.metrô.br.
- Utilizaria o número de telefone indicado no quadro.
- Telefonaria.
- Telefonar para o número.
- O endereço eletrônico.

Nenhum crédito

Código 0: Dá uma resposta insuficiente ou vaga.

- Entraria em contato. *[Vago]*
- Perguntaria. *[Vago]*

Dá uma resposta que indica uma compreensão errada do texto ou que seja implausível ou irrelevante.

Código 9: Em branco.